




Trafiktestet för dig som har körkort

Läs igenom frågorna och svara på samliga. Rita ett kryss i det hål som du anser är rätt svarsalternativ. Vissa frågor kan ha fler än ett rätt svar. 12 rätt berättigar till köp av Trafikborgarmärket!
Facit! Riv av kanten så hittar du rätt svar på mittuppslaget!

1 Du är förare av bilen på bilden. Vad innebär denna vägmarkering i vägens mitt?



- A. Jag får inte köra över den heldragna linjen med något hjul
- B. Jag får köra över den heldragna linjen för att köra om långsamtgående fordon
- C. Mötande trafik får inte korsa den heldragna linjen och köra på min sida av körbanan

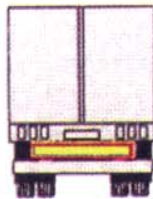
- A
- B
- C

2 Har polisen rätt att ta alkoholutandningsprov på en bilförare som stoppats?

- A. Ja, men bara om rattfylleri misstänks
- B. Ja, även om rattfylleri inte misstänks
- C. Nej

- A
- B
- C


3 Du kör i mörker och kommer i fatt ett stort fordon som har den gula reflexanordningen du ser på bilden. Vad innebär det?



- A. Jag har en tung lastbil utan släpvagn framför mig
- B. Jag har en tung lastbil med tillkopplad tung släpvagn framför mig
- C. Anordningen visar att fordonet är lastat med farligt gods.

- A
- B
- C


4 Vad är riktigt vid påfart till motorväg?



- A. 1. ska anpassa sin hastighet så att han smidigt kan släppa in 2.
- B. Vid alla tillfällen har 2. rätt att åka före 1.
- C. 2. får byta körfält bara om det kan ske utan fara eller onödigt hinder

- A
- B
- C

5 Vem får köra om här?



- A. Bilisten får köra om mopeden
- B. Mopedisten får köra om traktorn
- C. Både bilisten och mopedisten får köra om traktorn

- A
- B
- C

6 Vem ansvarar straffrättsligt för att barn sitter i särskild skyddsanordning och/eller bilbälte?

- A. Föraren
- B. Vårdnadshavaren

- A
- B


7 Vilken eller vilka regler gäller när man på en väg bogserar en annan personbil?



- A. Högsta tillåtna hastighet är 50 km/tim
- B. Om bogserlinan är längre än två meter måste den utmärkas
- C. Föraren av den bogserade bilen måste ha lägst körkortsklass B

- A
- B
- C

8 En bilförare har kört ut på vägrenen för att underlätta en omkörning. Vad gäller när han ska köra tillbaka in på körbanan?



- A. Han har väjningsplikt mot fordonen på körbanan
- B. Fordonsförare på körbanan har väjningsplikt mot honom
- C. Högerregeln

- A
- B
- C

