







- Antal fel
- Godkänd
- Ej godkänd

Datum: _____

Sign: _____



<p>9 Hur mycket längre tid tar det att i genomsnitt köra 80 km/tim istället för 90 km/tim på en sträcka av fem mil?</p>	<p>A. Ca 4 minuter</p> <p>B. Ca 7,5 minuter</p> <p>C. Ca 11 minuter</p>	<p>A <input type="radio"/></p> <p>B <input type="radio"/></p> <p>C <input type="radio"/></p>
<p>10 Du är förare av lastbilen på bilden och kör på en landsväg i 70 km/tim. Hur vet du att du har tillräckligt långt avstånd till bilen framför?</p> 	<p>A. Jag tillämpar den s k tre-sekundersregeln</p> <p>B. Jag håller ett avstånd på ca 70 meter</p> <p>C. Jag håller ett avstånd på ca två billängder</p>	<p>A <input type="radio"/></p> <p>B <input type="radio"/></p> <p>C <input type="radio"/></p>
<p>11 Ett barn som väger 20 kg åker i baksätet på en bil som frontalkrockar i 50 km/tim. Hur stor är barnets levande kraft vid kollisionen?</p>	<p>A. Motsvarande 100 kg</p> <p>B. Motsvarande 500 kg</p> <p>C. Motsvarande 1 000 kg</p>	<p>A <input type="radio"/></p> <p>B <input type="radio"/></p> <p>C <input type="radio"/></p>
<p>12 På vilket eller vilka olika sätt ska en förare som har väjningsplikt tydligt visa att han avser att fullgöra denna plikt?</p> 	<p>Genom att</p> <p>A. i god tid sätta ned hastigheten</p> <p>B. stanna</p> <p>C. accelerera</p>	<p>A <input type="radio"/></p> <p>B <input type="radio"/></p> <p>C <input type="radio"/></p>
<p>13 Vad är viktigt att tänka på vid möte under körning i mörker?</p>	<p>A. Att köra så nära kantlinjen som möjligt</p> <p>B. Att köra mitt emellan mittlinjen och kantlinjen</p> <p>C. Att rikta blicken långt fram utefter den högra vägkanten</p>	<p>A <input type="radio"/></p> <p>B <input type="radio"/></p> <p>C <input type="radio"/></p>
<p>14 Vilket eller vilka av dessa påståenden är rätta?</p> 	<p>A. Både bil A och B får köras rakt fram</p> <p>B. Bil B har lämplig placering för vänstersväng</p> <p>C. Bil A har rätt placering för vänstersväng</p>	<p>A <input type="radio"/></p> <p>B <input type="radio"/></p> <p>C <input type="radio"/></p>
<p>15 Vad är riktigt i fråga om obehövad cykelöverfart?</p> 	<p>A. Cyklisten får bara korsa vägen när det kan ske utan fara</p> <p>B. Bilisten skall anpassa hastigheten så att det inte uppstår fara för en cyklist som är ute på cykelöverfarten</p>	<p>A <input type="radio"/></p> <p>B <input type="radio"/></p>
<p>16 Vilket eller vilka av följande påståenden är riktiga vad gäller vägrenen?</p>	<p>A. Man får parkera på huvudleds vägren utanför tätbebyggt område</p> <p>B. Den som kör ut från vägrenen har väjningsplikt mot trafiken på körbanan</p> <p>C. Det är stora risker förenade med att köra på vägrenen i mörker</p>	<p>A <input type="radio"/></p> <p>B <input type="radio"/></p> <p>C <input type="radio"/></p>